

نام و نام خانوادگی:

دبستان غیردولتی یاس

نام آموزگار: پریسا مرمری - سیده فاطمه علوی - سارا سپهری

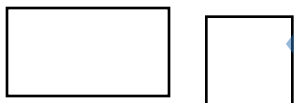
۱- باکارت های ۷ و ۵ و ۳ تمام عدد های سه رقمی را بنویسید.

بین عددهایی که نوشته شده :

الف- بزرگترین عدد را مشخص کن.

ب- کوچک ترین عدد را مشخص کن.

۲- ابتدا خط تقارن شکل ها را کشیده و سپس تفاوت و شباهت این دو شکل را بنویسید.



شباهت:

تفاوت:

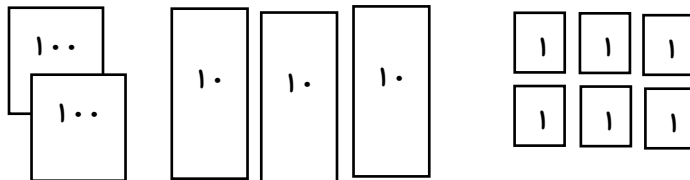
حزوه سیپی

۳- الگوها را ادامه دهید.

..... - - - - - - - ۹ - ۶ - ۳

..... - - - - - - - ۱۰۶ - ۱۰۵ - ۱۰۴

۴- کامل کنید.



| صدگان | دهگان | یکان |
|-------|-------|------|
| | | |

حروف :

عدد :

۵- مهدیس ۲۶ دقیقه به نوار قرآن گوش داد و سپس ۱۷ دقیقه روان خوانی آن آیات را تمرین کرد. مهدیس چند

دقیقه برای یادگیری قرآن وقت گذاشت؟

۶- تقریب اعداد زیر را بنویسید.

۷۸ →

۴۲ →

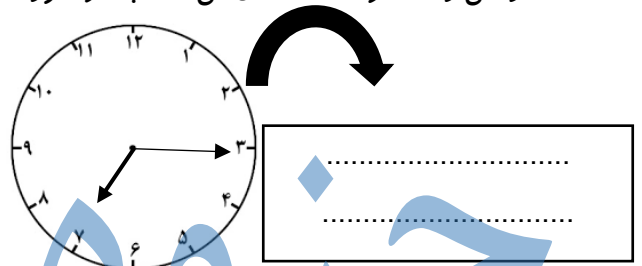
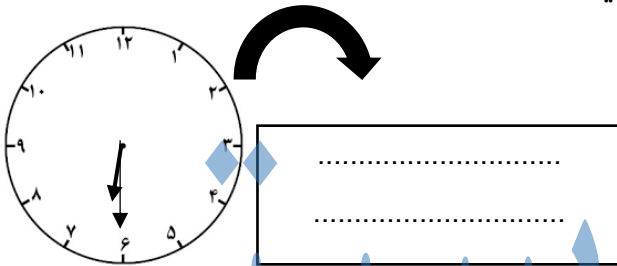
۶۵ →

۷- حاصل جمع و تفریق زیر را به روش فرآیندی به دست آورید.

$$\begin{array}{r} 47 \\ + \\ 25 \\ \hline \end{array}$$

$$\begin{array}{r} 78 \\ - \\ 59 \\ \hline \end{array}$$

۸- زمانی را که هر ساعت نشان می دهد به دو صورت بنویسید.



۹- به سوالات زیر پاسخ دهید.

یک ربع بعد از ساعت ۱۰:۲۰ چه ساعتی است؟

- ارزش سکه های زیر را بنویسید.

به عدد : به حروف :



| عنوان | تسلط کامل | تسلط خوب | باید تمرین بیشتری داشته باشد |
|--|-----------|----------|------------------------------|
| اشکال هندسی را با تفاوت و شباهت آن ها می شناسد. | | | |
| الگوها را به درستی تشخیص و ادامه می دهد | | | |
| عملیات جمع و تفریق فرآیندی را حل می کند. | | | |
| در شناخت زمان ساعت ها دقت عمل دارد. | | | |
| در انجام حل مسائلی مثل ارزش سکه ، تقریب زدن اعداد و الگویابی دقت عمل دارد. | | | |

نظر آموزگار:

-1

735-753 - 573 - 537 - 375 - 357

357 (ب)

الف) 753

2) شباهت : هم مستطیل و هم مربع چهار ضلع و چهار گوشه دارند.

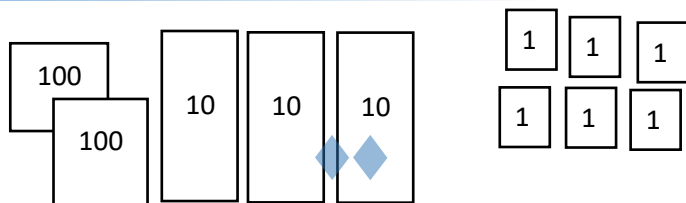
تفاوت : در شکل مربع چهار ضلع باهم برابر اند ، اما در شکل مستطیل دو ضلع روبرو باهم برابر است.

(3)

3 - 6 - 9 - 12 - 15 - 18 - 21 - 24 - 27 - 30

104 - 105 - 106 - 107 - 108 - 109 - 110 - 111 - 112

(4)



| یکان | دهگان | صدگان |
|------|-------|-------|
| ۶ | ۳ | ۲ |

به حروف : دویست و سی و شش

به عدد : ۲۳۶

جزوه نسیبی

(5)

مهدیس 43 دقیقه برای یادگیری قرآن وقت گذاشت.

$$\begin{array}{r}
 + 26 \\
 17 \\
 \hline
 36 \\
 + 7 \\
 \hline
 43
 \end{array}$$

-6

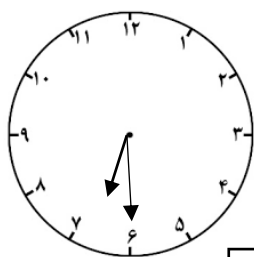
۷۸ → ۸۰

۴۲ → ۴۰

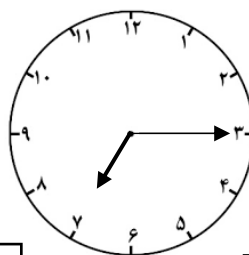
۶۵ → ۷۰

$$\begin{array}{r} 47 \\ + 25 \\ \hline 67 \\ + 5 \\ \hline 72 \end{array}$$

$$\begin{array}{r} 78 \\ - 59 \\ \hline 28 \\ - 9 \\ \hline 19 \end{array}$$



6 : 30
شش و نیم



7 : 15
هفت و ربع

جزوه سیپی